


Einmaleins mit 4

- 1 Wie viele Beine sind es? Schreibe die Plus- und die Malaufgabe.

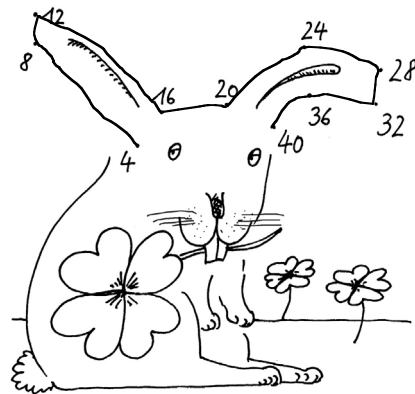


$$4 + 4 + 4 + 4 + 4 + 4 = 24$$

$$6 \cdot 4 = 24$$

- 2 Male vier Kästchen rot, dann vier gelb, dann wieder rot usw. und schreibe alle 4er-Zahlen.
- 3 Verbinde die 4er-Zahlen in der richtigen Reihenfolge.

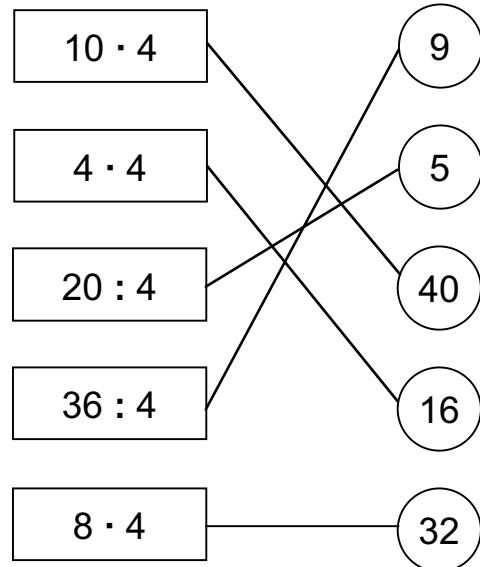
		4		8		
12			16			20
	24			28		
32			36			40



- 4 Ergänze und lerne.

$1 \cdot 4 = 4$	$40 : 4 = 10$
$2 \cdot 4 = 8$	$36 : 4 = 9$
$3 \cdot 4 = 12$	$32 : 4 = 8$
$4 \cdot 4 = 16$	$28 : 4 = 7$
$5 \cdot 4 = 20$	$24 : 4 = 6$
$6 \cdot 4 = 24$	$20 : 4 = 5$
$7 \cdot 4 = 28$	$16 : 4 = 4$
$8 \cdot 4 = 32$	$12 : 4 = 3$
$9 \cdot 4 = 36$	$8 : 4 = 2$
$10 \cdot 4 = 40$	$4 : 4 = 1$

- 5 Verbinde Aufgabe und Ergebnis.



- 6 An einem Tisch sitzen immer 4 Kinder.

Frage: Wie viele Kinder sitzen an 7 Tischen?

Rechnung: $7 \cdot 4 = 28$

Antwort: 28 Kinder sitzen an 7 Tischen.